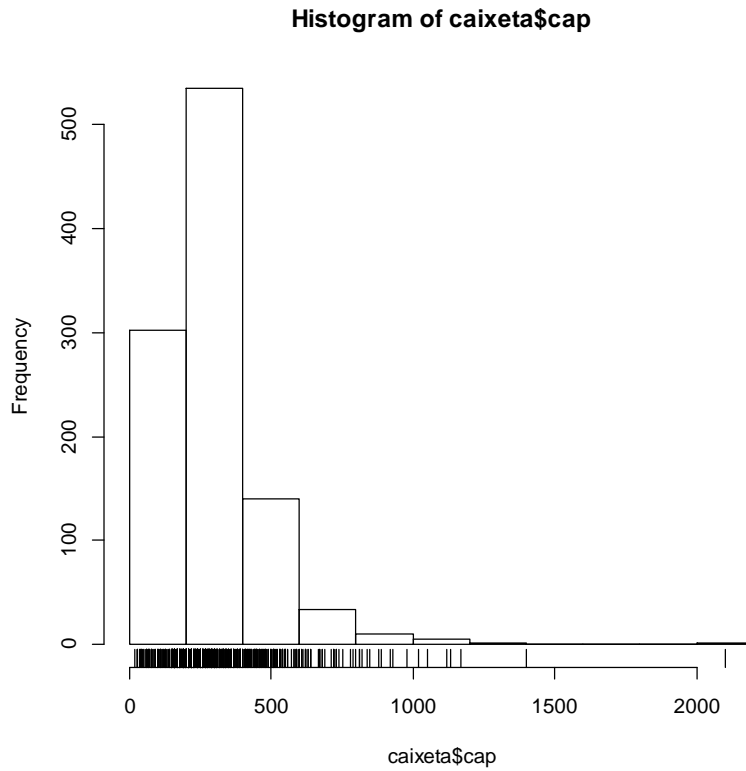


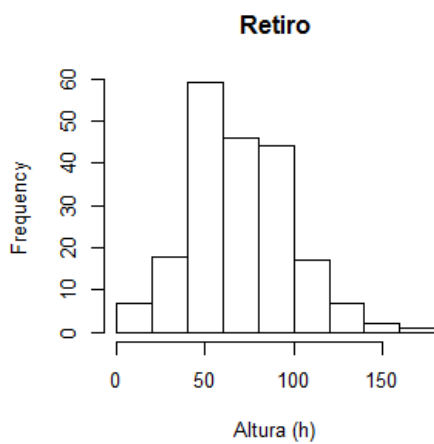
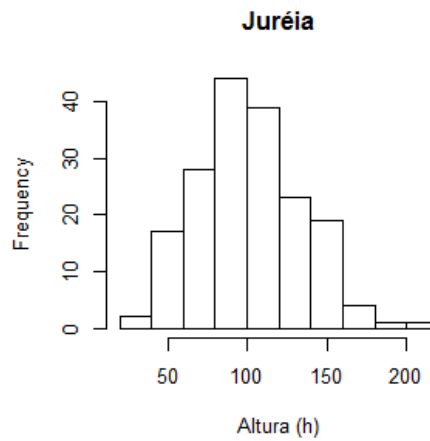
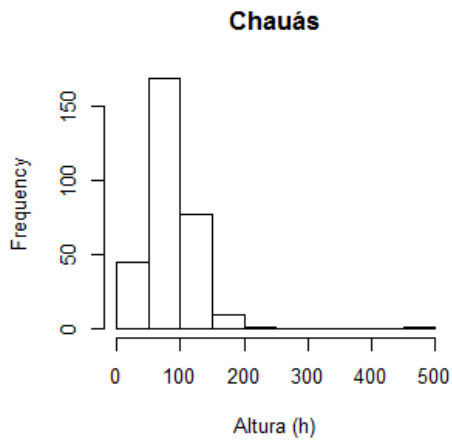
4.3 Caixetais

Neste exercício, use o objeto `caixeta`, criado no tutorial [Exploração de uma Variável Categórica](#).

1. Construa um histograma do `dap`¹⁾ dos fustes dos caixetais.



- 2) Construa histogramas da altura das árvores para os diferentes caixetais ('local').



3) Há diferenças entre as estruturas (distribuição de tamanhos) dos caixetais?

Não entendi. Distribuição de tamanhos = altura;

Se a pergunta for referente as alturas, sim existe diferenças. Na Juréia e em Chauas as maiores frequências estão nas alturas próximas a 100, e em Retiro as caixetas mais frequentes são menores que nas outras duas localidades.